

שאלון סגור

אוניברסיטת בר-אילן הפקולטה למשפטים

יסודות בכלכלה למשפטים

99-150-01

סמסטר ב', תשע"ח
פרופ' קובי נוסים
טל אוסטר

28

תל א: 46+18

תל ק: 30
94

מבחן מסכם, מועד ב'

הנחיות לפתרון הבחינה:

1. משך הבחינה: שעתיים וחצי.
2. חומר עזר: מחשבון בלבד.
3. יש להשיב על כל השאלות אך ורק על גבי טופס הבחינה.
4. שאלות סגורות (אמריקאיות):
 - (א) שאלות סגורות אינן דורשות נימוק או הסבר, אלא סימון התשובה הנכונה בלבד.
 - (ב) נימוקים/הסברים לתשובות על שאלות אלה לא יהיו רלוונטיים בקביעת הציון.
5. שאלות פתוחות:
 - (א) מקום בו נדרש הסבר או נימוק, יש לעשות זאת תוך שימוש במושגים שלמדתם בקורס.
 - (ב) מקום בו נדרש הסבר גרפי, ציורו גרפים גדולים וברורים. יש לשרטט גרפים במחברת הטיוטה תחילה ולהעתיקם לדפי הבחינה רק לאחר שאתם בטוחים בדיוקם.
 - (ג) הניקוד לתשובות על השאלות הפתוחות יינתן בהתאם לנכונות התשובות, לאיכות ההסברים ולמידת הדיוק בהנמקה.
 - (ד) אם נדרשת תשובה כמותית, חשבו את התשובה המדויקת ביותר האפשרית. התשובה המדויקת ביותר עשויה לעיתים להיות מסוג של טווח.
 - (ה) אין לחרוג מן השורות המוקצות לתשובה. חשבו היטב ונסחו את התשובה בטיוטה לפני שאתם מעלים אותה על גבי טופס הבחינה. חריגה לא תיבדק!
 - (ו) גרפים וטבלאות לא יבואו במניין השורות המוקצות.

הנחות:

- אלא אם נאמר אחרת:
1. עקומת הביקוש/היצע יורדת/עולה משמאל לימין.
 2. השוק מצוי בשווי משקל.


ב ה צ ל ח ה!

מס' מח': 28

שנת: תשע"ח סמסטר: 2 מועד: 2 מטלה: 1.1
קורס: 99150-01 יסודות בכלכלה למשפטים



0010002282590000182151



חלק א': שאלות פתוחות (50 נק')

26

שאלה 1 (30 נק')

הניחו כי שוק חבילות נייר הטואלט בישראל מצוי בתחרות משוכללת ובשווי משקל. מחיר שווי משקל של חבילה תקנית של נייר טואלט הוא 40 ₪ וכמות שווי משקל 3 מיליון חבילות בחודש.

א. במצב שווי משקל בשוק חבילות נייר הטואלט:

1) מהי העלות השולית בייצור של כל אחד מהיצרנים בשוק בשווי משקל? (1 נק')

40 ₪ ✓

2) מהו הפדיון השולי של כל אחד מהיצרנים בשוק? (1 נק')

40 ₪, אלא שואי = דציין שואי קיה שיוו השרא. סמאות משולטלי

3

3) כיצד מתנהג הפדיון השולי של כל אחד מן היצרנים בשוק (עולה/יורד/קבוע)? הסבירו. (2 נק')

~~הדציין מת קדוד שכן מוצרי אלה שיוו משרא. סמאות משולטלי~~

במקרה
למשל
ספיון שתי = לחיך
שוק - דציין
סוגי יוון
השכתי

ואר מאצנים -
הצנינים מוכנים
לשם פקוח.

4) כיצד משתנה הפדיון השולי של כל אחד מן היצרנים בשוק, אם בכלל, ככל שההיצע גמיש יותר? הסבירו. (2 נק')

~~למשל הקדוד אין הספחה לציין השואי, אלה המוסדה דציין פדוד~~

X

ספיון שתי.
מאצני אק שיה
ולא זמישוליה
משכתי.

~~היא היה האחרונה שנתכנה - דציין שיוו משרא. סמאות משולטלי~~

~~הדציין שיוו משרא. סמאות משולטלי~~

ב. כל היצרנים בשוק חבילות נייר הטואלט החלו לפעול באופן מאוחד כקרטל ושווי המשקל בשוק השתנה. הם צמצמו את הכמות המיוצרת של בשוקל-2 מיליון חבילות בחודש ומחיר השוק עלה ל-50 ₪ לחבילה.

1) כיצד הושפע עודף הצרכן ממהלך זה? הסבירו. (2 נק')

האצנה מק אדוד הליכ קלך כלה הם הושפ פקוח יחילת כ קדוד מאצנים פקוח

✓
8

יה אק מאצנים אדוד יאר אק פקוח מארי קדוד אכן המוחה (המכונה של הליכ קדוד)


2) כיצד הושפעה הרווחה החברתית ממהלך זה? הסבירו. (2 נק')

מחז אדוד הליכ קדוד (כי קדוד) אלא. מאצני הליכ קדוד יאר קדוד אק מאצנים פקוח

X

מאצנים אכן המוחה החברתית קדוד קדוד (הספחה) אלא - מאצנים יחילת ושהמאצנים

דקוד קדוד מלשתי השואי



3 כיצד מתנהג הפדיון השולי של קרטל נייר טואלט (עולה/יורד/קבוע)? הסבירו. (2.5 נק') ✓

הכזין השולי יורד עם כוון כל מוצר נוסף שמוסיף הצרכנים הם מוכנים לשלם
פחות אלא לקוחות התוצר יורגו ממשאל זמין ובעולם הקרטל ככל שמיצר יורג
צולג האולג השולג שלו, ככל שקנים יורג הגאסג להכזין קורג יורג.

4 כיצד מתנהג הפדיון השולי של כל אחד מן היצרנים החברים בקרטל (עולה/יורד/קבוע)? הסבירו. (2.5 נק') ✓

הכזין השולי של יכין קוצו שכן המחר נקסז יי הקרטל זלך לקווג הקקולט
שנולג הלין, המישה זלוטין וממנה נלצ הרכזין.

ג. שר האוצר, החרד לקולות בוחריו הצורכים נייר טואלט לרוב, החליט לקבוע מחיר מקסימום בסך 40 ₪ לחבילת נייר טואלט בשוק. מחיר המקסימום נאכף באופן מושלם. (הניחו שכל היצרנים עדיין פועלים באופן מאוחד בקרטל.)

1 כיצד מתנהג כעת הפדיון השולי של קרטל נייר טואלט (עולה/יורד/קבוע)? הסבירו. (2 נק') ✓


הכזין השולי קבוע- הקולט לא ימור מוצרים זמחר הולגה ממחר המקפ זכן ימחר קורג שזין
המשקל הניאשוניג של הרכזין קבוע

2 מהי כמות חבילות נייר טואלט שיורה הקרטל לחבריו לייצר כעת? דהיינו, כיצד, אם בכלל, ישתנה שווי המשקל בשוק נייר הטואלט? מה יהיו מחיר וכמות שווי משקל בשוק? הסבירו. (3 נק') 7

מחר המקפ היין ימור שזין המשקל זכן ימזיר גלג הולג קישוק לקצמולג - הנולג גוה
3 מילין יי זכמחר סל 4 זוג: הולג הנחילה של הקולט לעקס זל כוללן ימג המפלוג.
הקולט כולג למחר כולג יי קולג סלל זכ הולג זל גלכשו כולג זקב הקצוג וההכז קשיוני
המשקל.

3 כיצד הושפעה הרווחה החברתית ממהלך זה? הסבירו. (2 נק') ✓

הכולמה המכניג זלוג כי ממז המקפ זמסול גל המשמ הקולט שסכר לא ינול זמלוג קולג
סלל כולג מוצרים זכן הכולמה המכניג ממז מרפמיגלג - מוצרי הולכס זל כי קנע יורג יי
קבולג סלל זמקל הלין זל כי מוזר יורג זמקל זלל זמקל זמקל זלל זלל הלין זלל יורג



ד. הניחו כעת שהקרטל התפרק ושוררת שוב תחרות משוכללת בשוק נייר הטואלט, אשר חוזר למצב שווי משקל המקורי (כאמור בראשית שאלה זו). עלתה הצעה בועדת השרים להטיל "סנקציה" על יצרני נייר הטואלט בגין התנהגותם הקרטליסטית בעבר, וזאת כדי להרתיע התנהגות מסוג זה בשוקים. הסנקציה הרגולטורית שנבחרה היא הטלת מגבלות ייצור על יצרני נייר הטואלט, כך שלא יהיה בידי אף אחד מהם לייצר את הכמות שהיה מעוניין לייצר בשוק באופן חופשי. לפיכך, כל יצרני נייר הטואלט יחד רשאים לייצר מעתה לא יותר מ-2 מיליון חבילות נייר טואלט בסה"כ בחודש. מגבלות ייצור אלה נאכפות באופן מושלם.

1) מה יהיה מחיר חבילת נייר טואלט בשווי המשקל החדש בשוק? הסבירו. (2 נק')

סנקציה זו קבוצה גרוסה לגביה שאם קרטי, קמאג מוציא של 2 מיליון יחידות
הואים פס שם, של הוצרים מוצים שלם את הסכום הוא אלו הנטול הלי.

2) כיצד הושפעה הרווחה החברתית ממהלך זה? הסבירו. (2 נק')

קטנה-הוצרים קונים בחוג ומלמס יוגר אן אור הוצרין קטן, מפתח אור הוצרין הם
מייצרים בחוג אן ממוחם יוגר, הם מקנה הוללה המסוגל קנה מלך פיסיו: מסוף.

3) האם ועדת השרים השיגה את מטרתה באמצעות אימוץ צעד רגולטורי זה? הסבירו. (4 נק')

לא שם המקרה להאניש הקטל יציה קטל הוצרנה שכן טופה א הוצרים להועיל נטו
קטל-איציר זאחצו בחוג מוצים ולמלג אלה יוגר קטל, איצרים אן כונה אובל יוגר קטל
מלמס שמה המלך המלקס אטמל וו הוצרים.


שאלה 2 (10 נק')

בהתאם לנתוני שאלה 1.

א. מהי בערך גמישות הביקוש הנקודתית לנייר טואלט בנקודת שווי משקל בתחרות משוכללת? הסבירו. (3 נק')

האניש אבי הנלמל קנה 1.3

$$\frac{\frac{CQ}{Q}}{\frac{CQ}{P}} = \frac{\frac{1M}{3M}}{\frac{10}{40}} \rightarrow \frac{40,000,000}{30,000,000} \rightarrow \frac{4}{3}$$



ב. אם ידוע שגמישות ההיצע בנקודת שווי משקל בתחרות משוכללת היא 2.66 (דהיינו, $\frac{8}{3}$). מהי בערך העלות השולית בייצור של החברים בקרטל נייר הטואלט בשווי המשקל הקרטליסטי המתואר בסעיף ב. של שאלה 1: הסבירו. (4 נק')

$$\frac{Q_c}{P_c} = \frac{8}{3} \rightarrow \frac{1000000}{\frac{x}{40}} = \frac{8}{3} \rightarrow \frac{40,000,000}{360,000x} = \frac{8}{3} \rightarrow 3x = \frac{40}{3} \rightarrow \frac{120}{24x} \quad x=5$$

שני מחייב ✓

הגזירה השולית תהי 40-5 = 35

ג. מהו בערך הרווח השולי של החברים בקרטל נייר הטואלט בשווי המשקל הקרטליסטי המתואר בסעיף ב. של שאלה 1: הסבירו. (3 נק')

קצין החליטה להזמין 2 מאיין הם מומרים לזכרון השול 50 והגזירה השולית שלהם תהי 35, כלומר קטומה ואין צלילה קטומה הגזירה השולית תהי 15 סה

שאלה 3 (5 נק')

מוצר ציבורי לא יוצע כלל בשוק החופשי, או שיוצע בכמות ובאיכות לא מספקים, מאחר שאף צרכן אינו מעוניין לצרוך אותו, ולכן אף צרכן לא ישלם עבורו תשובה: נכון / לא נכון / לא ניתן לדעת ✓

הקבוצה כי מוצר ציבורי "אף צרכן לא רוצה לזכור אלא ולכן יש זלם ולפי שנויה יש הקום הצרכים הקום למוצר זה אך הצרכים לא מוכים זלם ולפי משום שמוצר חיל (סמל, מנוחה) הצרכים קשוק לא הצרכים לייצר כי לא ממומרים ממנו ולא כי אף צרכן לא מאמין לזכור אלא. זו לא שולית של המוצר קצין

שאלה 4 (5 נק')

הניחו שצרכן צורך שני מוצרים בלבד בתקופה מסוימת. מחיר השוק של שני המוצרים זהה. צרכן המשיא את תועלתו יבחר לצרוך כמות יחידות שווה משני המוצרים הללו בתקופה זו.

תשובה: נכון/לא נכון / לא ניתן לדעת ✓

הסבר:

צרכן השולף מתקדם מולח צרכן קאופה (הסם מוצרים) מחיר צ' מחיר צ' גש 4, אז מחיר המוצרים צביסול

הסם בין הגם הממוצעים שווה לומר הגם משני המוצרים שווה אך יגין שצרכים כולם שווה מח

היא לא אלה הגם מוצרים כולם ממוצרים צ' אכן לא חייב לזכור כולם שווה וני אקיים אלה הממוצרים

